

Adı :
Soyadı:

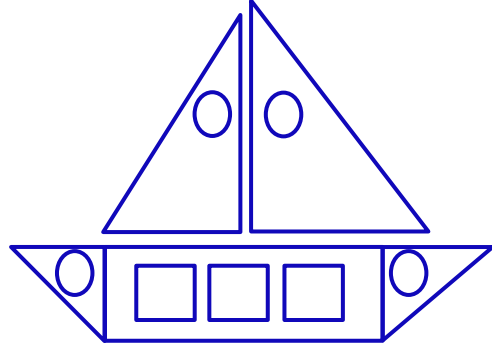
2. Sınıf Matematik

Geometrik Şekiller-2

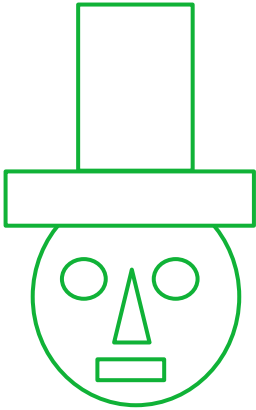
Aşağıdaki görsellerde hangi geometrik şekilden kaç tane olduğunu yazınız.



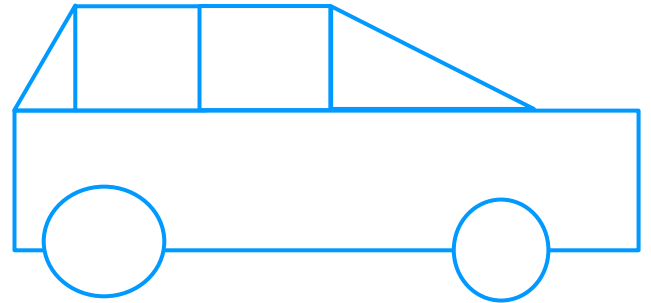
.....tane çember (kırmızı)
.....tane kare (mavi)
.....tane dikdörtgen (sarı)
.....tane üçgen (yeşil)



.....tane çember (kırmızı)
.....tane kare (mavi)
.....tane dikdörtgen (yeşil)
.....tane üçgen (sarı)



.....tane çember (sarı)
.....tane kare (mavi)
.....tane dikdörtgen (kırmızı)
.....tane üçgen (yeşil)




.....tane çember (yeşil)
.....tane kare (mavi)
.....tane dikdörtgen (sarı)
.....tane üçgen (kırmızı)

Adı :
Soyadı:

2. Sınıf Matematik

Geometrik Şekiller-2

Aşağıdaki aynı renk noktaları birleştiriniz. Köşeden köşeye kenarları çiziniz.



Aşağıdaki izometri kâğıtta geometrik şekiller oluşturunuz.

